




LOI E/S PAR FERMETURE GÉOMÉTRIQUE

SYSTÈME D'ORIENTATION D'ANTENNE



Le système d'orientation d'antenne étudié permet, grâce à une télécommande, de régler à distance l'orientation de sa parabole afin d'optimiser la réception des chaînes de télévision.

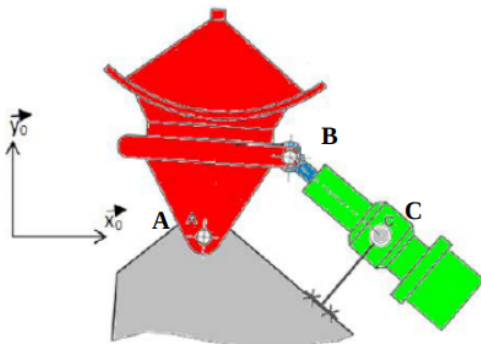
Pour cela, le vérin électrique est alimenté en énergie électrique par le préactionneur, de façon à faire rentrer ou sortir la tige et obtenir ainsi la position de l'antenne désirée.

Objectif

Déterminer la durée d'alimentation en énergie électrique du système d'orientation pour un changement de position de l'antenne donné.

Une représentation 2D du système d'orientation d'antenne est donnée ci-dessous :

Données :



$$\overline{AC} = L_0 \cdot \vec{X}_0$$

$$\overline{AB} = L_1 \cdot \vec{X}_1$$

$\alpha_1(t)$: paramètre de mouvement de l'antenne 1 par rapport au support 0.

$\alpha_2(t)$: paramètre de mouvement du corps 2 par rapport au support 0.

$d(t)$: paramètre de mouvement de la tige 3 par rapport au corps 2.

Q1

Réaliser, en s'inspirant de la figure ci-dessus, le schéma cinématique du système d'orientation d'antenne dans le plan $(O, \vec{x}_0, \vec{y}_0)$. Paramétrer ce schéma cinématique.

Q2

Donner le graphe de liaison de ce système.



Q3 Donner le paramètre d'entrée et le paramètre de sortie du système.

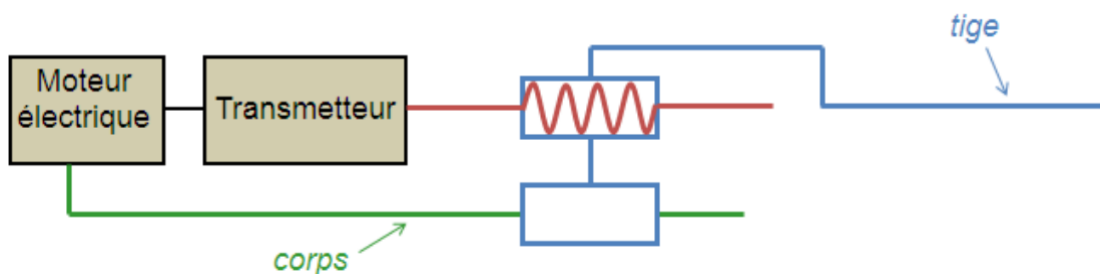
Q4 Déterminer la loi entrée-sortie en position du système à l'aide d'une fermeture géométrique.

Le vérin électrique utilisé est constitué :

- d'un moteur électrique ;
- d'un réducteur à engrenage (rapport de réduction $k=1/5$) ;
- d'un dispositif de transformation de mouvement de type vis-écrou (pas $p=2\text{mm}$).



Schéma technologique du vérin électrique :



On suppose que le moteur électrique tourne à la vitesse constante de 6000 tr/min.

Q5 Déterminer la vitesse de sortie de la tige par rapport au corps

On souhaite faire passer l'antenne 1 d'une position initiale ($\alpha_1=58^\circ$) à une position finale ($\alpha_1=82^\circ$).

Q6 Déterminer, à l'aide de la courbe de la loi entrée-sortie donnée ci-dessous, la durée d'alimentation du vérin électrique permettant ce changement de position.

